



पाठ - 12

लेना और देना

लेना और देना

Q1. अब पता करें कि और बच्चों को कितने माला और खुले मोती अलग से मिले।

	मोती	10 मोतियों की माला	खुले मोती
रज़िया	12		
रीमा	17		
आरिफ़	24		
सोनू	35		
सिमर	31		

उत्तर : स्वयं करे

एक माला और

Q1. उनके पास कितने मोती हैं?

(क)

		
रीमा	1	7
सोनू +	3	5

यहाँ कुल _____ मोती हैं।

(ख)

		
आरिफ़	2	4
रज़िया +	1	2

यहाँ कुल _____ मोती हैं।


उत्तर :

(क) सोनू के पास आरिफ़ से 11 मोती ज्यादा मोती है

(ख) आरिफ़ के पास रज़िया से 12 मोती ज्यादा मोती है

Q2. कितने ज्यादा मोती है?

(क)

		
रीमा	3	5
सोनू -	2	4

सोनू के पास आरिफ़ से _____
मोती ज्यादा हैं।

(ख)

		
आरिफ़	2	4
रज़िया -	1	2

आरिफ़ के पास रज़िया से _____
मोती ज्यादा हैं।




उत्तर :

(क) सोनू के पास आरिफ़ से 11 मोती ज्यादा मोती है

(ख) आरिफ़ के पास रज़िया से 12 मोती ज्यादा मोती है

अभ्यास का समय

Q1. रज़िया और सोनू ने कितने मोतियों को लिया है?

रजिया								
सोनू		+						
		<table border="1" style="border-collapse: collapse; width: 60px; height: 60px;"> <tr> <td style="width: 30px; height: 30px; background-color: yellow;">1</td> <td style="width: 30px; height: 30px; background-color: lightblue;">2</td> </tr> <tr> <td style="width: 30px; height: 30px; background-color: yellow;">3</td> <td style="width: 30px; height: 30px; background-color: lightblue;">5</td> </tr> <tr> <td style="width: 30px; height: 30px; background-color: yellow;"></td> <td style="width: 30px; height: 30px; background-color: lightblue;"></td> </tr> </table>	1	2	3	5		
1	2							
3	5							

उत्तर : 47 मोती रजिया और सोनू द्वारा लिए गए हैं।

Q2. तनीषा के पास 17 पेंसिल हैं। सिया के पास 25 पेंसिल हैं। सभी में कितने पेंसिल हैं?

तनीशा	<table border="1" style="border-collapse: collapse; width: 60px; height: 30px;"><tr><td style="width: 30px; height: 30px; background-color: yellow;">1</td><td style="width: 30px; height: 30px; background-color: lightblue;">7</td></tr></table>	1	7	
1	7			
सिया	+	<table border="1" style="border-collapse: collapse; width: 60px; height: 30px;"><tr><td style="width: 30px; height: 30px; background-color: yellow;">2</td><td style="width: 30px; height: 30px; background-color: lightblue;">5</td></tr></table>	2	
2	5			
		<table border="1" style="border-collapse: collapse; width: 60px; height: 30px;"><tr><td style="width: 30px; height: 30px; background-color: yellow;"></td><td style="width: 30px; height: 30px; background-color: lightblue;"></td></tr></table>		

अगर सिया 3 पेंसिलें तनीशा को दे देती है तब तनीशा के पास 20 पेंसिलें हो जाएँगी।
20+22 को जोड़ना आसान है।

उत्तर : कुल मिलाकर, तनीषा और सिया के पास 42 पेंसिल हैं।

Q3. मुनीजा की कक्षा में अंग्रेजी कहानियों की 13 । किताबें और हिंदी की 22 हैं। कुल मिलाकर कितनी कहानी की किताबें हैं?

	<table border="1" style="border-collapse: collapse; width: 60px; height: 30px;"><tr><td style="width: 30px; height: 30px; background-color: yellow;">1</td><td style="width: 30px; height: 30px; background-color: lightblue;">3</td></tr></table>	1	3
1	3		
+	<table border="1" style="border-collapse: collapse; width: 60px; height: 30px;"><tr><td style="width: 30px; height: 30px; background-color: yellow;">2</td><td style="width: 30px; height: 30px; background-color: lightblue;">2</td></tr></table>	2	2
2	2		
	<table border="1" style="border-collapse: collapse; width: 60px; height: 30px;"><tr><td style="width: 30px; height: 30px; background-color: yellow;"></td><td style="width: 30px; height: 30px; background-color: lightblue;"></td></tr></table>		

उत्तर :

	<table border="1" style="border-collapse: collapse; width: 60px; height: 30px;"><tr><td style="width: 30px; height: 30px; background-color: yellow;">1</td><td style="width: 30px; height: 30px; background-color: lightblue;">3</td></tr></table>	1	3
1	3		
+	<table border="1" style="border-collapse: collapse; width: 60px; height: 30px;"><tr><td style="width: 30px; height: 30px; background-color: yellow;">2</td><td style="width: 30px; height: 30px; background-color: lightblue;">2</td></tr></table>	2	2
2	2		
	<table border="1" style="border-collapse: collapse; width: 60px; height: 30px;"><tr><td style="width: 30px; height: 30px; background-color: yellow;">3</td><td style="width: 30px; height: 30px; background-color: lightblue;">5</td></tr></table>	3	5
3	5		

कक्षा में 35 कहानी पुस्तकें हैं।

Q4. साक्षी के पास 23 फल थे। उसने 15 फल खा | लिए। उसके पास कितने फल बचे?

$$\begin{array}{r}
 23 \\
 - 15 \\
 \hline
 \end{array}$$

उत्तर :

$$\begin{array}{r}
 23 \\
 - 15 \\
 \hline
 08
 \end{array}$$

साक्षी के साथ अब 8 फल बचे हैं।

Q5. दलजीत के 35 पास कंचे हैं। अरविंद के पास 25 कंचे हैं। उनके पास कुल कितने कंचे हैं?

$$\begin{array}{r}
 35 \\
 + 25 \\
 \hline
 \end{array}$$

उत्तर :

$$\begin{array}{r}
 35 \\
 + 25 \\
 \hline
 60
 \end{array}$$

दलजीत और अरविन्द के पास कुल 60 कंचे हैं

Q6. निशा के पास 32 चूड़ियाँ हैं। सुखी के पास 16 चूड़ियाँ हैं। निशा के पास सुखी से कितनी चूड़ियाँ ज्यादा हैं?



$$\begin{array}{r}
 32 \\
 - 16 \\
 \hline
 \end{array}$$

उत्तर :

	3	2
-	1	6
	1	6

निशा के पास सुखी की तुलना में 16 अधिक चूड़ियाँ हैं।



Q7. शेखर के पास 32 रुपये हैं। उसने 17 रुपये की गेंद खरीदी। उसके पास कितने रुपये बाकी बचे हैं?

		
	3	2
-	1	7





मेरे पास एक आसान तरीका है। अगर मैं 32 में से 2 सिक्के और 17 में से 2 सिक्के निकाल लूँ तो मेरे पास बचेंगे 30 - 15 रुपये

उत्तर :



		
	3	2
-	1	7
	1	5

Q8. सोनी ने 24 रुपये के बिस्किट तथा 16 रुपये का चिप्स का पैकेट खरीदा। उसे कितने रुपये देने होंगे?



		
	2	4
+	1	6



उत्तर :



		
	2	4
+	1	6
	4	0

लेखन के बिना इसके अलावा करने का एक और तरीका है 24 में 1 जोड़ना और 16 से 1 घटाना क्योंकि यह 25 और 15 जोड़ना आसान है।

		
	2	5
+	1	5
	4	0

बिस्कुट और चिप्स के पैकेट के लिए वह 40 रुपये देगी।



Q9. फंटूश के पास 64 रुपये थे। मेले में उसने 39 रुपये खर्च कर दिए। उसके पास अब कितने रुपये बचे?

		
	6	4
-	3	9

इसे बिना लिखे भी हल करने की तरकीब ढूँढो।



उत्तर :

		
	6	4
-	3	9
	2	5

लेखन के बिना ऐसा करने का एक और तरीका 64 और 39 दोनों में 1 जोड़ना है, क्योंकि 65 से 40 घटाना आसान है।


	6	5
-	4	0
	2	5

फंटूश अब 25 रुपये में बचे हैं।

वेंकटेश की कैटीन

Q1.

बिल बनाने में वेंकटेश की मदद करो -



	रुपये
डोसा	23
उत्तपपम	28
कुल	

	रुपये
इडली	15
कॉफ़ी	8
कुल	

	रुपये
दही वड़ा	25
मिर्ची चावल	18
कुल	

	रुपये
सूप	27
नूडल्स	15
कुल	

उत्तर : स्वयं करे